

$$8 \text{ см } 5 \text{ мм} - 3 \text{ см } 5 \text{ мм} = \square \text{ см}$$

$$4 \text{ см } 2 \text{ мм} + 1 \text{ см } 6 \text{ мм} = \square \text{ см } \square \text{ мм}$$

$$7 \text{ см } 2 \text{ мм} + 2 \text{ см} = \square \text{ см } \square \text{ мм}$$

Определи порядок действий и найди значение выражения.

$$34 - 8 + 7 * 2 =$$

На завтрак есть бананы, орехи, печёный картофель и рыба. Сколько разных завтраков из двух блюд можно составить?

У Дениса 4 любимые книги, а у Андрея в 2 раза больше. Сколько любимых книг у Андрея?

$6 * 7 =$

$9 * 5 =$

$7 * 3 =$

$10 * 6 =$

$54 : 9 =$

$48 : 8 =$



$56 : 7 =$

$32 : 4 =$

Запиши выражение и найди его значение.

Во сколько раз 54 больше 6

На сколько 54 больше 6.



$$8 \text{ см } 5 \text{ мм} - 3 \text{ см } 5 \text{ мм} = \square \text{ см}$$

$$4 \text{ см } 2 \text{ мм} + 1 \text{ см } 6 \text{ мм} = \square \text{ см } \square \text{ мм}$$

$$7 \text{ см } 2 \text{ мм} + 2 \text{ см} = \square \text{ см } \square \text{ мм}$$

Определи порядок действий и найди значение выражения.

$$34 - 8 + 7 * 2 =$$

На завтрак есть бананы, орехи, печёный картофель и рыба. Сколько разных завтраков из двух блюд можно составить?

У Дениса 4 любимые книги, а у Андрея в 2 раза больше. Сколько любимых книг у Андрея?

$6 * 7 =$

$9 * 5 =$

$7 * 3 =$

$10 * 6 =$

$54 : 9 =$

$48 : 8 =$


$56 : 7 =$


$32 : 4 =$

Запиши выражение и найди его значение.

Во сколько раз 54 больше 6

На сколько 54 больше 6.





8 см 5 мм - 3 см 5 мм = □ см

4 см 2 мм + 1 см 6 мм = □ см □ мм

7 см 2 мм + 2 см = □ см □ мм

Определи порядок действий и найди значение выражения.

$34 - 8 + 7 * 2 =$



На завтрак есть бананы, орехи, печёный картофель и рыба. Сколько разных завтраков из двух блюд можно составить?

У Дениса 4 любимые книги, а у Андрея в 2 раза больше. Сколько любимых книг у Андрея?

$6 * 7 =$
$9 * 5 =$
$7 * 3 =$
$10 * 6 =$
$54 : 9 =$
$48 : 8 =$
$56 : 7 =$
$32 : 4 =$

Запиши выражение и найди его значение.
Во сколько раз 54 больше 6

На сколько 54 больше 6.



8 см 5 мм - 3 см 5 мм = □ см

4 см 2 мм + 1 см 6 мм = □ см □ мм

7 см 2 мм + 2 см = □ см □ мм

Определи порядок действий и найди значение выражения.

$34 - 8 + 7 * 2 =$

На завтрак есть бананы, орехи, печёный картофель и рыба. Сколько разных завтраков из двух блюд можно составить?

У Дениса 4 любимые книги, а у Андрея в 2 раза больше. Сколько любимых книг у Андрея?

$6 * 7 =$
$9 * 5 =$
$7 * 3 =$
$10 * 6 =$
$54 : 9 =$
$48 : 8 =$
$56 : 7 =$
$32 : 4 =$

Запиши выражение и найди его значение.
Во сколько раз 54 больше 6

На сколько 54 больше 6.

